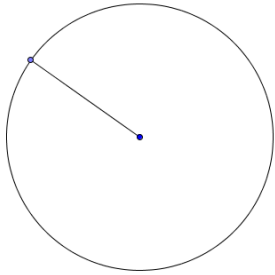
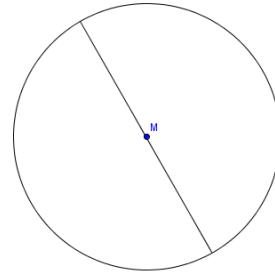



Der Kreis

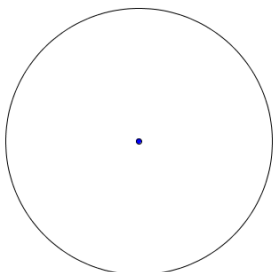
Benenne die eingezeichneten Linien. Schreibe auch ihre Abkürzungen dazu.








Wie wird der eingezeichnete Punkt genannt?
Beschrifte ihn mit dem richtigen Buchstaben.

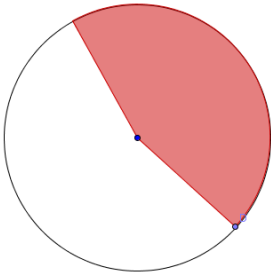


Wie wird die rote Fläche bezeichnet?

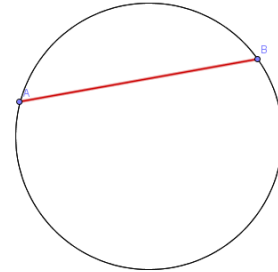


Der Kreis

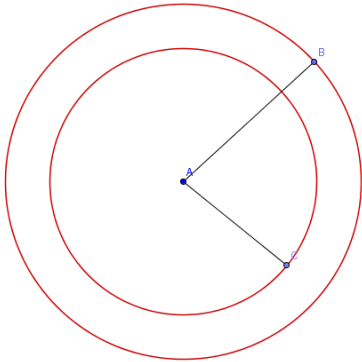
Wie wird die färbige Fläche genannt?



Wie wird die obere, kleinere Fläche bezeichnet?



Wie werden diese Kreise genannt?
Benenne auch die 2 blauen Linien.



AUFGABE

Hole dir nun 2 ausgeschnittene Kreise.

1. Nimm den ersten Kreis und zeichne einen Durchmesser und einen Radius ein.
2. Nimm den zweiten Kreis und zeichne ein Kreissegment und einen Kreissektor ein.