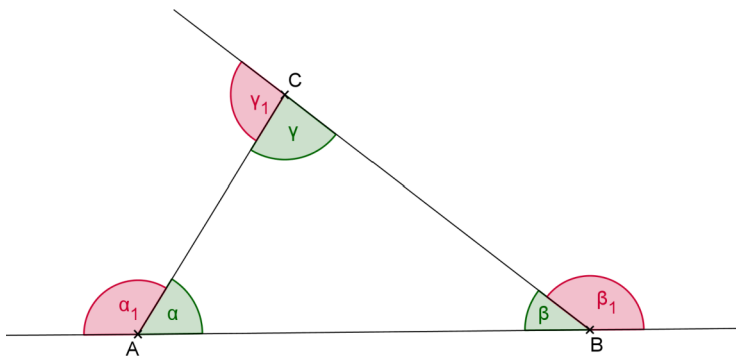
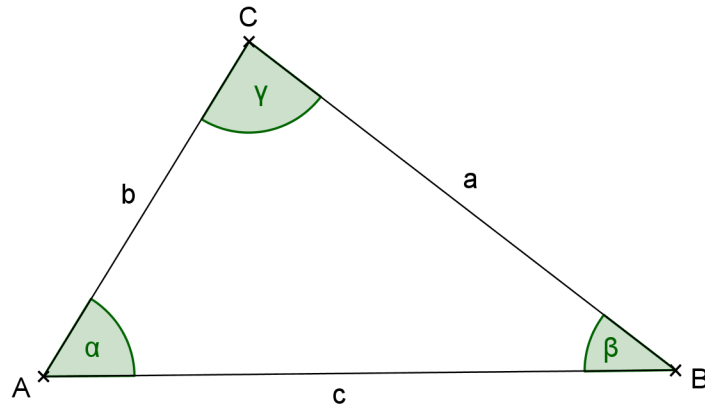


Das Dreieck



Die **Summe der Innenwinkel** eines Dreiecks beträgt immer _____.

$$\alpha + \beta + \gamma = \underline{\hspace{2cm}}$$

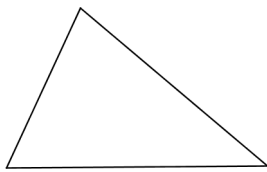
Die **Summe der Außenwinkel** eines Dreiecks beträgt immer _____.

$$\alpha_1 + \beta_1 + \gamma_1 = \underline{\hspace{2cm}}$$

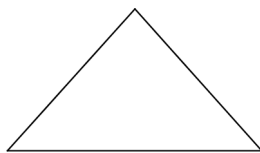
Arten von Dreiecken

Wir unterscheiden:

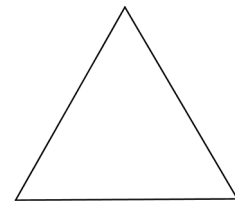
- **nach Seiten**



alle Seiten sind verschieden lang

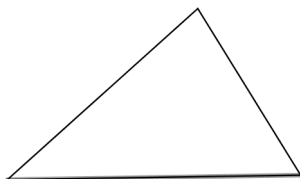


zwei gleich lange Seiten

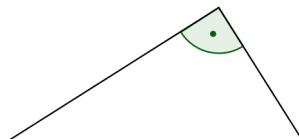


alle Seiten sind gleich lang

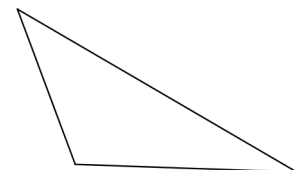
- **nach Winkeln**



drei spitze Winkel



ein rechter Winkel



ein stumpfer Winkel